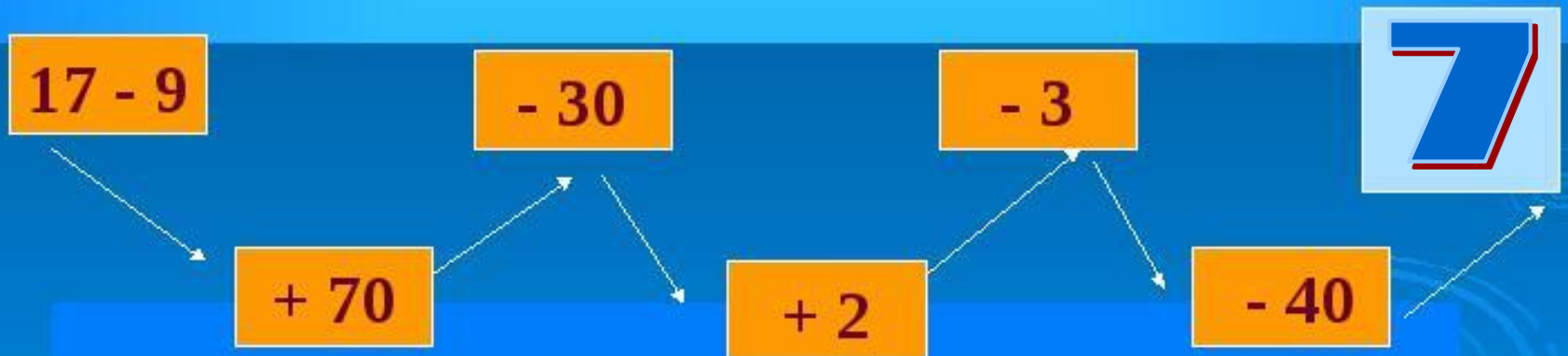




Устный счёт



The image shows three green chalkboards arranged horizontally. The middle chalkboard is the largest and contains the text. The two side boards are smaller and are empty. The text is written in a blue, italicized serif font.

*21 апреля.
Классная работа.*




**Минутка
чистописания**





 $6+49$

 $2\cdot 3$

 $45+8$

 $23+9$

 $31+6$

 $7+57$



**Умножение
числа 2 и на 2**



Решение примеров

$$2 \cdot 4 + 2$$

$$2 \cdot 3 + 2$$

$$2 \cdot 4 - 2$$

$$2 \cdot 3 - 2$$



В первый день продали 12 стульев, во второй – 18. Сколько стульев продали в третий день, если всего в эти дни продано 54 стула?



В I день – 12 ст.
Во II день – 18 ст.
В III день - ? ст.

} 54 ст.

Решение:

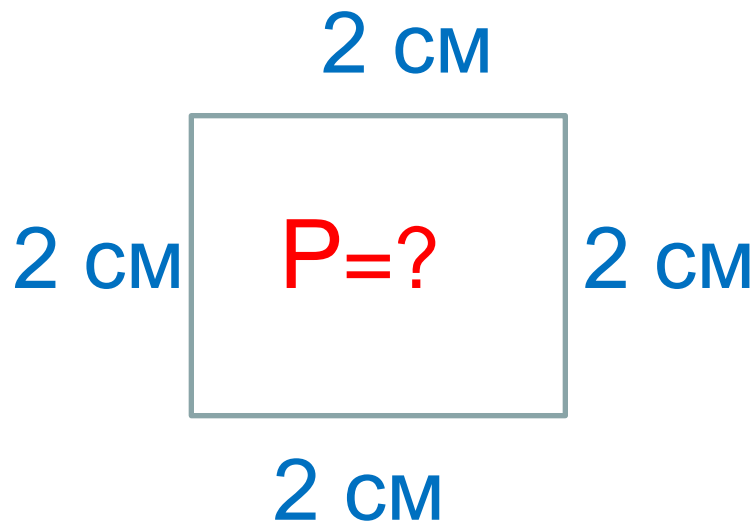
$$54 - 12 - 18 = 24 \text{ (ст.)} - \text{ в III день}$$

Ответ: 24 стула.





Самостоятельная работа.



Решение.

$$P = 2 + 2 + 2 + 2 = 8 \text{ (см)}$$

$$P = 2 \bullet 4 = 8 \text{ (см)}$$

Ответ: 8 сантиметров.

Работа в парах.

$$2 \cdot \square = 4$$

$$5 \cdot 2 = \square$$

$$\square \cdot 3 = 6$$

$$2 \cdot 4 = \square$$

$$2 \cdot \square = 10$$

$$3 \cdot 2 = \square$$

$$\square \cdot 2 = 8$$



Работа в группах

Р $2 \cdot 4 - 2$			Б $2 \cdot 3 - 4$		
Ж $2 \cdot 5 - 7$			Д $5 \cdot 2 + 7$		
А $2 \cdot 2 + 8$			У $3 \cdot 2 + 20$		
17	6	26	3	2	12
Д	Р	У	Ж	Б	А



ИНИШ